

**UZUPEŁNIA ZDAJĄCY**

KOD			PESEL											
<input type="text"/>	<input type="text"/>	<input type="text"/>	<input type="text"/>	<input type="text"/>	<input type="text"/>	<input type="text"/>	<input type="text"/>	<input type="text"/>	<input type="text"/>	<input type="text"/>	<input type="text"/>	<input type="text"/>	<input type="text"/>	<input type="text"/>

*miejsce  
na naklejkę*

# EGZAMIN MATURALNY Z WIEDZY O SPOŁECZEŃSTWIE POZIOM ROZSZERZONY

DATA: **10 maja 2019 r.**

GODZINA ROZPOCZĘCIA: **14:00**

CZAS PRACY: **180 minut**

LICZBA PUNKTÓW DO UZYSKANIA: **60**

## Instrukcja dla zdającego

1. Sprawdź, czy arkusz egzaminacyjny zawiera 27 stron (zadania 1–31). Ewentualny brak zgłoś przewodniczącemu zespołu nadzorującego egzamin.
2. Odpowiedzi zapisz w miejscu na to przeznaczonym przy każdym zadaniu.
3. Pisz czytelnie. Używaj długopisu albo pióra tylko z czarnym tuszem/atramentem.
4. Nie używaj korektora, a błędne zapisy wyraźnie przekreśl.
5. Pamiętaj, że zapisy w brudnopisie nie będą oceniane.
6. Na tej stronie oraz na karcie odpowiedzi wpisz swój numer PESEL i przyklej naklejkę z kodem.
7. Możesz korzystać z kalkulatora prostego.
8. Nie wpisuj żadnych znaków w części przeznaczonej dla egzaminatora.

NOVA FORMUŁA



MWO-R1\_1P-192

### Zadanie 1. (0–1)

O procesie społecznym

Silna więź łączy dziecko z rodzicami, którzy są dla niego najważniejszymi osobami przekazującymi wiedzę o otaczającym świecie i jego regułach. Związek ten sprawia, że dziecko łatwo utożsamia się z rodzicami i bez trudu, wręcz automatycznie, przejmuje i internalizuje ich sposób widzenia świata, ich wartości, postawy, wzory zachowań.

Na podstawie: B. Szacka, *Wprowadzenie do socjologii*, Warszawa 2008, s. 156, 158–159.

**Podaj nazwy procesu społecznego i środowiska społecznego, których dotyczy tekst.**

Proces społeczny – .....

Środowisko społeczne – .....

### Zadanie 2. (0–3)

**Tekst 1.** O koncepcji obcości według Jana Stanisława Bystronia

[...] [W]yobrażenia o obcych są logicznym następstwem zawyżonych wyobrażeń na temat grupy własnej. Pozytywnemu, wyidealizowanemu autoobrazowi danej grupy odpowiadają negatywne, pejoratywne wyobrażenia na temat grup obcych, w których podkreśla się niższość obcych, ich śmieszność.

Z. Benedyktowicz, *Portrety obcego. Od [...] do symbolu*, Kraków 2000, s. 59.

**Tekst 2.** O postrzeganiu kultury rosyjskiej przez Jakutów

„Wszystkim wiadomo było, że Rosjanie to wyższa nacja. [...] Jakut zawsze powinien podporządkować się Rosjaninowi. [...] Za Chruszczowa wstydziliśmy się, że jesteśmy Jakutami. [...] Wstydziliśmy się mówić po jakucku. Kto lepiej znał rosyjski, ten wyżej trzymał głowę. Jakuci starali się posyłać dzieci do klas rosyjskich”. [...] Wartości kultury tradycyjnej [Jakuci] odrzucali z nadzieją, że taka postawa uwolni ich od piętna „dzikusa”, a przede wszystkim umożliwi samorealizację, rozwój. Ich światopogląd kształtował się z dala od wioskowej małej ojczyzny, a często na pozarepublikańskich uniwersytetach.

*Wielka Syberia Małych Narodów*, red. E. Nowicka, Kraków 2000, s. 174–175.

**2.1. Rozstrzygnij, czy koncepcja zaprezentowana w tekście 1. jest adekwatna do postaw mniejszościowej grupy etnicznej przedstawionej w tekście 2. Swój wybór uzasadnij, odnosząc się do obu tekstów.**

Rozstrzygnięcie – .....

Uzasadnienie – .....

.....  
.....  
.....  
.....  
.....  
.....

## 2.2. Zaznacz poprawne dokończenie zdania.

W obu tekstach przedstawiono zjawisko

- A. ksenofobii.
- B. anomii społecznej.
- C. stereotypowego postrzegania grup.
- D. międzygrupowej kontroli społecznej.

## 2.3. Wyjaśnij uwarunkowania ruchliwości pionowej na obszarach, których dotyczy tekst 2.

.....

.....

.....


.....

.....

.....

### Zadanie 3. (0–1)

O typie społeczeństwa

	<p>Profesor Lesław Haber wymienia charakterystyczne desygnaty tego pojęcia: „(1) społeczność posiada rozwinięte środki do wytwarzania, przekazywania informacji i komunikacji; (2) zdecydowana większość społeczeństwa posiada umiejętności w zakresie posługiwania się i wykorzystania technologii [...], które stanowią podstawę zatrudnienia i utrzymania”.</p>
---	--

doi.prz.edu.pl; pl.depositphotos.com

Podaj nazwę typu społeczeństwa, którego dotyczą materiały źródłowe.

.....

Wypełnia egzaminator	Nr zadania	1.	2.1.	2.2.	2.3.	3.
	Maks. liczba punktów	1	1	1	1	1
	Uzyskana liczba punktów					

#### Zadanie 4. (0–1)

O jednej z mniejszości narodowych w Rzeczypospolitej Polskiej

Kazimierz Wielki zezwolił mieszkającym we Lwowie przedstawicielom tej mniejszości sądzić się według własnego prawa. Jako chrześcijanie żyli na ogół w zgodzie zarówno z ludnością polską, jak i ruską. Z biegiem czasu coraz bardziej asymilowali się z Polakami, co wiązało się z ich stopniowym bogaceniem się. Tylko biedniejsi ulegali rutenizacji. Byli kupcami, rzemieślnikami, tłumaczami-dyplomatami oraz właścicielami ziemskimi. Ceniąc sobie wykształcenie, dochowali się lekarzy, inżynierów i artystów. W następstwie drugiej wojny światowej osiedlili się w Polsce centralnej i zachodniej. Prócz kościołów w Krakowie i Gliwicach, ich obrządek wyznaniowy – o nazwie zawierającej nazwę ich narodu – był kultywowany także w Gdańsku. Dziś liczbę ich potomków przybyłych do Polski przed wiekami ocenia się na kilka tysięcy.

Na podstawie: www.lwow.com.pl

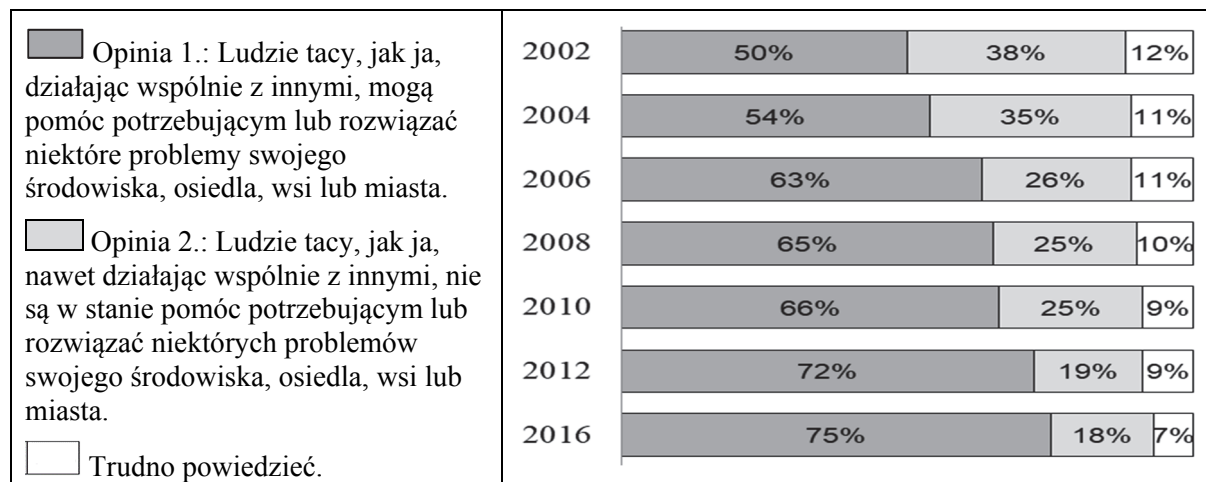
#### Zaznacz poprawne dokończenie zdania.

Tekst dotyczy mniejszości

- A. żydowskiej.
- B. ukraińskiej.
- C. ormiańskiej.
- D. łemkowskiej.

#### Zadanie 5. (0–1)

Wykres. Odpowiedzi na pytanie: Która z poniższych opinii jest bliższa Pana(i) poglądom?



Na podstawie: *Gotowość do współpracy*, Komunikat z badań CBOS BS/22/2016.

Na podstawie wykresu oceń, czy poniższe informacje są prawdziwe. Zaznacz P, jeśli informacja jest prawdziwa, albo F – jeśli jest fałszywa.

1.	W latach 2004–2008 spadł o 10% odsetek respondentów uznających, że bliższa ich poglądom jest druga opinia.	P	F
2.	Badania z 2016 roku wskazują, że co siódmy ankietowany nie wybierał żadnej z dwóch zaprezentowanych opinii.	P	F
3.	W latach 2002–2016 odnotowano systematyczny wzrost odsetka respondentów uznających, że bliższa ich poglądom jest pierwsza opinia.	P	F

### Zadanie 6. (0–1)

Tabela. Współczynnik Giniego\* i PKB *per capita* w wybranych państwach

Nazwa państwa	Współczynnik Giniego*	PKB <i>per capita</i> (w USD)
Dania	0,247	56 444
Haiti	0,595	784
Japonia	0,249	38 440
Nigeria	0,429	1 994
Rosja	0,375	27 834

\* Współczynnik Giniego – wskaźnik, który pokazuje nierówności w dochodach danego społeczeństwa; należy interpretować go w ten sposób, że im jest wyższy, tym nierówności w dochodach w danym kraju są większe.

Na podstawie: P. Kawala, *Mierniki rozwoju gospodarczego, czyli jak obiektywnie mierzyć świat*, „Analiza Unia Europejska.org”, nr 4/2012, s. 5–6; imf.org

**Rozstrzygnij, czy w przypadku państw przedstawionych w tabeli występuje zależność między PKB *per capita* a rozwarstwieniem społecznym. Swój wybór uzasadnij, przytaczając dane.**

Rozstrzygnięcie – .....

Uzasadnienie – .....

.....  
.....  
.....  
.....  
.....

### Zadanie 7. (0–1)

O zadaniach instytucji rynku kapitałowego w Rzeczypospolitej Polskiej

Instytucja ta powinna zapewniać:

- koncentrację podaży i popytu na papiery wartościowe dopuszczone do obrotu [...] w celu kształtowania powszechnego kursu;
- bezpieczny i sprawny przebieg transakcji i rozliczeń;
- upowszechnianie jednolitych informacji umożliwiających ocenę aktualnej wartości papierów wartościowych dopuszczonych do obrotu [...].

www.[...].pl


**Podaj pełną nazwę instytucji, której dotyczy tekst.**

.....

Wypełnia egzaminator	Nr zadania	4.	5.	6.	7.
	Maks. liczba punktów	1	1	1	1
	Uzyskana liczba punktów				

### Zadanie 8. (0–1)

Fragmety reklam społecznych



[www.wiescilubonskie.pl](http://www.wiescilubonskie.pl); [konkurs.kampaniespoleczne.pl](http://konkurs.kampaniespoleczne.pl)

**Wyjaśnij – odnosząc się do obowiązujących w Rzeczypospolitej Polskiej unormowań prawnych – do jakiego działania na rzecz organizacji pożytku publicznego zachęcają przedstawione reklamy.**

.....

.....

.....

.....

.....

.....

.....

.....

.....

.....

### Zadanie 9. (0–1)

O jednym z pojęć społecznych

W klasycznej koncepcji amerykańskiej (Gabriela Almonda) pojęcie to definiowano jako całokształt indywidualnych postaw i orientacji politycznych uczestników danego systemu. Większość naukowców skłaniała się ku pogładowi, że związane jest ono z subiektywnym wymiarem polityki, na który składają się znaczące polityczne: przekonania, postawy oraz wartości. W nauce polskiej najczęściej obejmuje się tym pojęciem także zachowania polityczne. Mamy wówczas do czynienia z 4 komponentami: poznawczym (wiedza o polityce), aksjologicznym (wartości polityczne), oceniająco-afektywnym (przekonania, oceny, opinie dotyczące sfery politycznej) oraz behawioralnym (zachowania polityczne).

Na podstawie: W. Jakubowski, P. Załęski, Ł. Zamęcki, *Nauka o polityce. Zarys koncepcji dyscypliny*, Pułtusk 2013, s. 270–276.

**Podaj nazwę pojęcia opisanego w tekście.**

.....

### Zadanie 10. (0–2)

O systemie ochrony zdrowia w USA w końcu pierwszej dekady XXI wieku

1. W Stanach Zjednoczonych całkowite wydatki na ochronę zdrowia, publiczne i prywatne łącznie, są najwyższe na świecie.
2. Jednocześnie – w porównaniu z innymi krajami rozwiniętymi – państwo przeznacza mniej środków na finansowanie ochrony zdrowia.
3. W debacie publicznej mówi się o większej roli instytucji sektora prywatnego i o finansowej odpowiedzialności jednostki.
4. Źródłem finansowania opieki zdrowotnej osób w wieku do 65 lat są prywatne, sponsorowane przez pracodawców, grupowe ubezpieczenia zdrowotne.
5. Zaletą tych rozwiązań jest duża elastyczność dostosowania usług opieki zdrowotnej do preferencji konsumentów.
6. W 2006 roku ponad 15,8% ludności pozostawało poza systemem ubezpieczeń zdrowotnych, zarówno państwowych, jak i prywatnych.

Na podstawie: W. Rutkowski, *Współczesne państwo dobrobytu*, Warszawa 2009, s. 179.

#### 10.1. Uzupełnij zdanie – wpisz właściwy numer.

Zdanie zawierające opinię oznaczono numerem .....

#### 10.2. Rozstrzygnij, czy przedstawiony w tekście system opieki i ubezpieczeń zdrowotnych jest charakterystyczny dla klasycznego państwa dobrobytu (państwa socjalnego). Swoj wybór uzasadnij.

Rozstrzygnięcie – .....

Uzasadnienie – .....  
.....  
.....  
.....

### Zadanie 11. (0–1)

O jednej z cech państwa

[...] [O]znacza ona „możliwość samodzielnego określania przez władze państwa jego interesów, reprezentowania go na scenie międzynarodowej [...] oraz możliwość swobodnego decydowania o tym, co się dzieje na terytorium objętym tą władzą”. Chodzi zatem o prawo, ale i zdolność do podejmowania ostatecznych, wiążących decyzji w odniesieniu do [...] terytorium państwa.

T. Wicciech, *Ustroje federalne Stanów Zjednoczonych, Kanady i Australii*, Kraków 2009, s. 24.

Podaj nazwę cechy państwa opisanej w tekście.

.....

Wypełnia egzaminator	Nr zadania	8.	9.	10.1.	10.2.	11.
	Maks. liczba punktów	1	1	1	1	1
	Uzyskana liczba punktów					

### Zadanie 12. (0–1)

O reżimie politycznym jednego z państw

Rozporządzenia i dekrety prezydenta mają [...] bardzo dużą moc prawną w przeciwieństwie do aktów Zgromadzenia Narodowego. [...] Pluralizm socjalny i ekonomiczny istnieje, jednak nikt nie może jego podmiotom zagwarantować ochrony przed ingerencją państwa. [...] Media są silnie kontrolowane przez władzę. [...] [W]ładza stara się przekonać obywateli, że polityka to zadanie prezydenta. [...] Liczba funkcjonariuszy milicji i żołnierzy wojsk wewnętrznych jest zastraszająco wysoka. Ich głównym zadaniem [...] jest zapewnienie bezpieczeństwa prezydentowi, rozpędzanie manifestacji i mitingów opozycji [...].

[...]votes.org

**Uzasadnij, odnosząc się do odpowiedniej cechy, że opisany reżim nie ma charakteru totalitarnego, lecz – autorytarny.**

.....

.....

.....

### Zadanie 13. (0–2)

Fragment mapy politycznej Europy



Na podstawie: [www.worldatlas.com](http://www.worldatlas.com)

O ustrojach politycznych państw

**Opis A.** To państwo – poddane procesowi dewolucji – jest monarchią, w której głową państwa jest monarcha z dynastii Windsorów, a parlament jest dwuizbowy.

**Opis B.** To unitarne państwo jest republiką, w której głową państwa jest prezydent wybierany w wyborach powszechnych na 5-letnią kadencję, a parlament jest dwuizbowy.

**Opis C.** To państwo – poddane procesowi regionalizacji – jest republiką, w której głową państwa jest prezydent wybierany przez specjalne kolegium składające się także z członków obu izb parlamentu na 7-letnią kadencję.

**Do każdego opisu ustroju politycznego dopisz nazwę właściwego państwa i numer, którym oznaczono je na mapie.**

	Nazwa państwa	Numer na mapie
Opis A.		
Opis B.		
Opis C.		

### Zadanie 14. (0–3)

Przepisy prawne z jednej z polskich konstytucji

Art. 3.1. Organami Państwa, pozostającymi pod zwierzchnictwem Prezydenta Rzeczypospolitej, są: Rząd, Sejm, Senat, Siły Zbrojne, Sądy, Kontrola Państwowa.

Art. 28. Prezes Rady Ministrów i Ministrowie są odpowiedzialni politycznie przed Prezydentem Rzeczypospolitej i mogą być przez Niego w każdym czasie odwołani.

Art. 30.3. Uchwała Izby Połączonych, oddająca Prezesa Rady Ministrów lub Ministra pod sąd Trybunału Stanu, zapada większością 3/5 głosów [...].

Art. 57.2. Ilekroć Konstytucja lub ustawy dla unormowania poszczególnej dziedziny z zakresu ustawodawstwa wymagają ustawy, dziedzina ta może być unormowana również dekretem Prezydenta Rzeczypospolitej [...].

Dz.U. [...], nr 30, poz. 227.

**14.1. Rozstrzygnij, czy z przytoczonych przepisów prawnych można wnioskować o istnieniu klasycznego trójpodziału władzy. Swój wybór uzasadnij, odnosząc się do dwóch z tych przepisów.**

Rozstrzygnięcie – .....

Uzasadnienie –

- .....
- .....

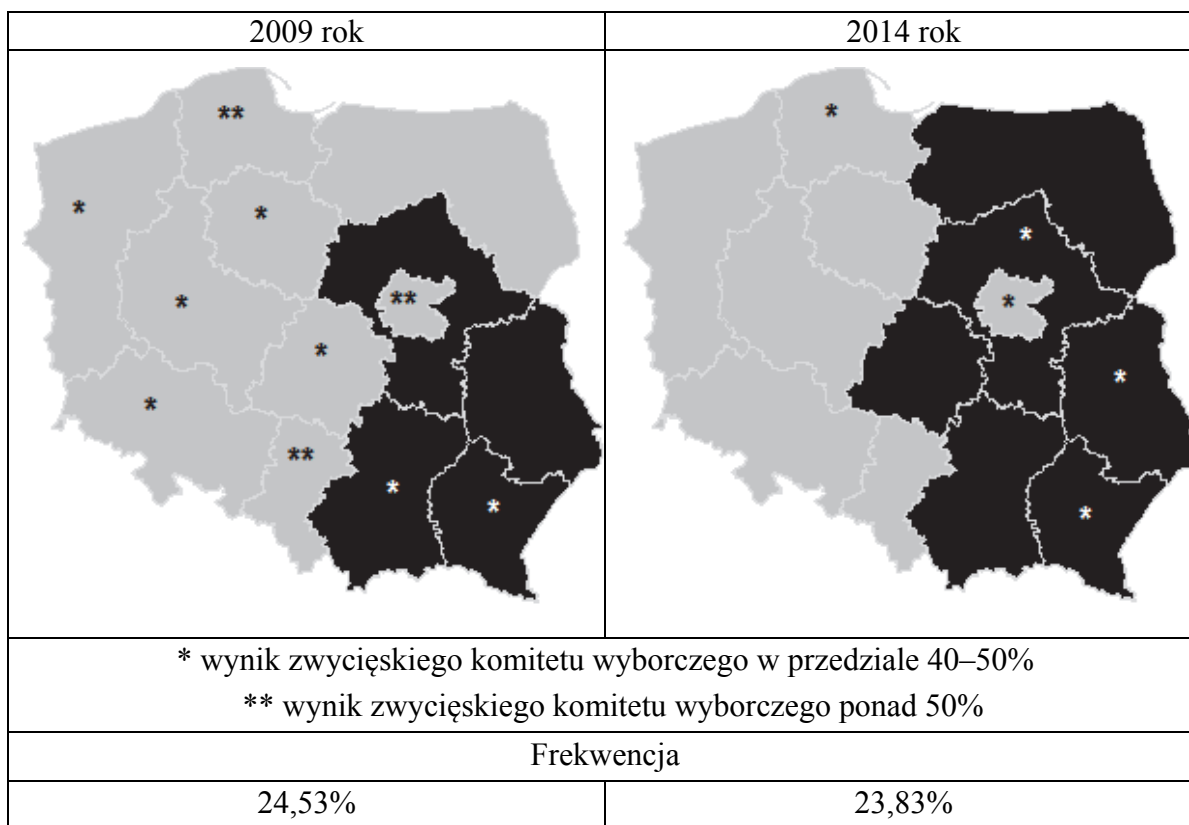
**14.2. Podaj nazwę rodzaju odpowiedzialności członków rządu określonej w art. 30.3.**

.....

Wypełnia egzaminator	Nr zadania	12.	13.	14.1.	14.2.
	Maks. liczba punktów	1	2	2	1
	Uzyskana liczba punktów				

**Zadanie 15. (0–3)**

Mapy. Wizualizacja rezultatów wyborów przeprowadzonych w Rzeczypospolitej Polskiej – komitety wyborcze zwycięskie w okręgach wyborczych



Na podstawie: pkw.gov.pl

**15.1. Uzasadnij, odwołując się do trzech – zamieszczonych w materiale źródłowym – informacji, że wskazana wizualizacja nie dotyczy wyborów do Sejmu RP.**

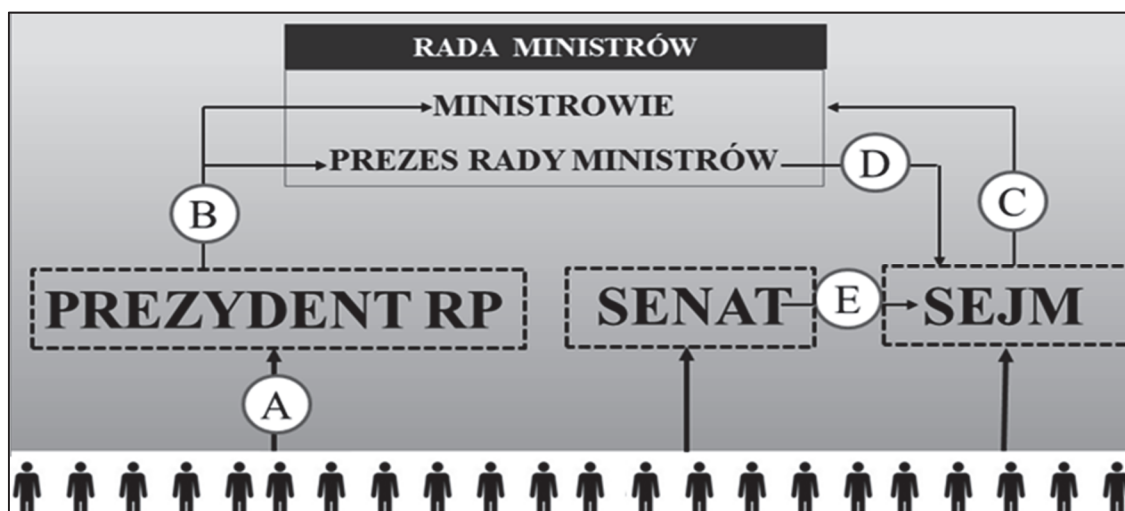
- .....
- .....
- .....

**15.2. Uzupełnij fragment legendy do map – wpisz pełne nazwy tych partii politycznych, które utworzyły odpowiednie komitety wyborcze.**

Barwa na mapach	Nazwa partii politycznej

### Zadanie 16. (0–1)

Schemat. System władzy w Rzeczypospolitej Polskiej



Na podstawie: Dz.U. 1997, nr 78, poz. 483, z późn. zm. (stan prawny na 5 marca 2019 r.).

Do każdego podanego działania przyporządkuj właściwą literę ze schematu.

przedstawienie exposé – .....

wyrażenie wotum nieufności – .....

### Zadanie 17. (0–1)

Fragment skargi złożonej w Rzeczypospolitej Polskiej

Wnoszę o stwierdzenie, że art. 28 par. 1 i art. 30 par. 1 *kpk* w zakresie, w jakim uniemożliwiają przed sądami I instancji udział czynnika społecznego w sprawowaniu wymiaru sprawiedliwości, są niezgodne z art. 45 ust. 1 w zw. z art. 182 *Konstytucji RP*.

Jednocześnie wnoszę:

- 1) o zasądzenie kosztów postępowania na rzecz skarżącego;
- 2) o zawieszenie lub wstrzymanie wykonania wyroku Sądu Okręgowego w Warszawie z dnia 10 marca 2010 r. sygn. akt X Ka 69/10 – w przypadku nadania biegu niniejszej skardze.

Na podstawie: saos.org.pl

Zaznacz poprawne dokończenie zdania.

Organem właściwym do rozpatrzenia skargi, której fragment zaprezentowano, jest

- A. Sąd Najwyższy.
- B. Trybunał Konstytucyjny.
- C. Sąd Okręgowy w Warszawie.
- D. Naczelny Sąd Administracyjny.

Wypełnia egzaminator	Nr zadania	15.1.	15.2.	16.	17.
	Maks. liczba punktów	2	1	1	1
	Uzyskana liczba punktów				

### Zadanie 18. (0–2)

Przepisy prawne z polskiej ustawy uchwalonej w 1987 roku

**Przepis 1.** Rzecznik bada, czy wskutek działania lub zaniechania organów, organizacji i instytucji [...] nie nastąpiło naruszenie prawa, a także zasad współżycia i sprawiedliwości społecznej.

**Przepis 2.** Rzecznika powołuje Sejm na wniosek Prezydium Sejmu, zgłoszony po zasięgnięciu opinii Rady Krajowej Patriotycznego Ruchu Odrodzenia Narodowego.

**Przepis 3.** Wniosek kierowany do Rzecznika jest wolny od opłat, nie wymaga zachowania szczególnej formy, lecz powinien zawierać oznaczenie wnioskodawcy oraz osoby, której [...] sprawa dotyczy, a także określać przedmiot sprawy.

**Przepis 4.** Organ, organizacja lub instytucja, do których zwróci się Rzecznik, obowiązane są z nim współdziałać i udzielać mu pomocy [...].

Dz.U. 1987, nr 21, poz. 123.

**18.1. Podaj pełną nazwę instytucji, której dotyczą przytoczone przepisy prawne.**

.....

**18.2. Podaj numer przepisu prawnego, który stracił aktualność. Swój wybór uzasadnij, przytaczając obowiązujące uregulowania w tym zakresie.**

Numer – .....

Uzasadnienie – .....

.....

.....

### Zadanie 19. (0–1)

O kompetencjach kolegialnych organów samorządowych w Rzeczypospolitej Polskiej

**Opis 1.** Do kompetencji tego organu należy: przygotowywanie projektu i wykonywanie budżetu województwa, dokonywanie wydatków budżetowych oraz zgłaszanie propozycji zmian w budżecie województwa.

**Opis 2.** Do kompetencji tego organu należy: uchwalanie budżetu województwa oraz rozpatrywanie sprawozdań z wykonania budżetu województwa, sprawozdań finansowych województwa oraz sprawozdań z wykonywania wieloletnich programów województwa.

Na podstawie: Dz.U. 1998, nr 91, poz. 576, z późn. zm. (stan prawny na 5 marca 2019 r.).

**Do każdego opisu dopisz nazwę organu, którego kompetencji dotyczy ten opis.**

Opis 1. – .....

Opis 2. – .....

### Zadanie 20. (0–1)

Nazwy wybranych aktów prawnych w Rzeczypospolitej Polskiej

**Nazwa aktu 1.** *Ustawa z dnia 5 stycznia 2011 r. Kodeks wyborczy*

**Nazwa aktu 2.** Rozporządzenie Rady Ministrów z dnia 5 lipca 2016 r. w sprawie szczegółowych warunków udzielania pomocy finansowej uczniom na zakup podręczników [...]

**Nazwa aktu 3.** Uchwała nr XXXVIII/961/2016 Rady Miasta Stołecznego Warszawy z dnia 15 grudnia 2016 r. w sprawie budżetu miasta stołecznego Warszawy na 2017 rok

**Nazwa aktu 4.** Zarządzenie Ministra Sprawiedliwości z dnia 27 stycznia 2017 r. w sprawie wyznaczenia terminu przeprowadzenia egzaminu sędziowskiego w 2017 r.

**Uzupelnij tekst – wpisz właściwe numery.**

Źródłem powszechnie obowiązującego prawa nie jest akt prawny, oznaczony numerem ....., wydany przez naczelny organ administracji. Źródłem takim jest natomiast akt wydany przez organ egzekutywy w celu wykonania ustawy, który to akt oznaczono numerem .....

### Zadanie 21. (0–2)

Przepisy prawne z kodeksów obowiązujących w Rzeczypospolitej Polskiej

**Przepis 1.** Karami są: 1) areszt; 2) ograniczenie wolności; 3) grzywna; 4) nagana.

**Przepis 2.** Kara nie może być zastosowana po upływie 2 tygodni od powzięcia wiadomości o naruszeniu obowiązku pracowniczego i po upływie 3 miesięcy od dopuszczenia się tego naruszenia.

**Przepis 3.** Sąd wymierza karę za usiłowanie w granicach zagrożenia przewidzianego dla danego przestępstwa.

Dz.U. [...], nr 12, poz. 114, z późn. zm.; Dz.U. [...], nr 24, poz. 141, z późn. zm.;  
Dz.U. [...], nr 88, poz. 553, z późn. zm. (stan prawny na 5 marca 2019 r.).

**Do każdego przepisu prawnego dopisz nazwę kodeksu, w którym został on zamieszczony.**

Przepis 1. – .....

Przepis 2. – .....

Przepis 3. – .....

### Zadanie 22. (0–1)

Przepisy prawne z kodeksu obowiązującego w Rzeczypospolitej Polskiej

Art. 11. Pełną zdolność [...] nabywa się z chwilą uzyskania pełnoletności.

Art. 15. Ograniczoną zdolność [...] mają małoletni, którzy ukończyli lat trzynaście, oraz osoby ubezwłasnowolnione częściowo.

Dz.U. [...], nr 16, poz. 93, z późn. zm. (stan prawny na 5 marca 2019 r.).

**Podaj nazwę zdolności, której dotyczą przytoczone przepisy prawne.**

.....

Wypełnia egzaminator	Nr zadania	18.1.	18.2.	19.	20.	21.	22.
	Maks. liczba punktów	1	1	1	1	2	1
	Uzyskana liczba punktów						

### Zadanie 23. (0–3)

Informacje na podstawie uzasadnienia z pozwu

Spadkodawca Tadeusz Mysior, zamieszkały ostatnio w Gdańsku przy ul. Polnej 595/40, zmarł dnia 13 czerwca 2017 r. Spadkodawca był wdowcem, a pozostawił jako zstępne dwie pełnoletnie i pracujące córki – Weronikę Mysior (zam. w Łodzi przy ul. Pilotów 111/99) i Teresę Węgrzynowską (zam. w Krakowie przy ul. Pawiej 222A), które byłyby jedynymi spadkobiorcami w przypadku dziedziczenia ustawowego. W pozostawionym testamentie spadkodawca uczynił spadkobiercą tylko jedną z córek – Weronikę Mysior. Spadek to mieszkanie położone w Gdańsku przy ul. Polnej 595/40, którego wartość wynosi 200 tys. złotych.

Właściwość terytorialna sądów powszechnych dla adresów podanych powyżej:

Gdańsk, ul. Polna: Sąd Rejonowy Gdańsk-Południe i Sąd Okręgowy w Gdańsku

Łódź, ul. Pilotów: Sąd Rejonowy Łódź-Śródmieście i Sąd Okręgowy w Łodzi

Kraków, ul. Pawia: Sąd Rejonowy Kraków-Śródmieście i Sąd Okręgowy w Krakowie

Fragment pozwu

	Sąd .....	[A. NAZWA SĄDU]
	w .....	[B. NAZWA MIASTA]
	Wydział .....	[C. NAZWA WYDZIAŁU]
Powód:		
.....	[D. IMIĘ I NAZWISKO]	
Pozwany:		
.....	[E. IMIĘ I NAZWISKO]	
Wartość przedmiotu sporu [F.]:	.....	złotych
<b>POZEW O ZACHOWEK</b>		

Na podstawie: g.infor.pl [we fragmencie pominięto daty i adresy]

Przepisy prawne z kodeksów obowiązujących w Rzeczypospolitej Polskiej

**Przepis 1.** Do właściwości sądów okręgowych należą sprawy: [...] o prawa majątkowe, w których wartość przedmiotu sporu przewyższa siedemdziesiąt pięć tysięcy złotych [...].

**Przepis 2.** Powództwo wytacza się przed sąd pierwszej instancji, w którego okręgu pozwany ma miejsce zamieszkania.

**Przepis 3.** Powództwo z tytułu dziedziczenia, zachowku [...] wytacza się wyłącznie przed sąd ostatniego miejsca zwykłego pobytu spadkodawcy. [...]

**Przepis 4.** Zstępnym, małżonkowi oraz rodzicom spadkodawcy, którzy byliby powołani do spadku z ustawy, należą się, jeżeli uprawniony jest trwale niezdolny do pracy albo jeżeli zstępny uprawniony jest małoletni – dwie trzecie wartości udziału spadkowego, który by mu przypadł przy dziedziczeniu ustawowym, w innych zaś wypadkach – połowa wartości tego udziału (zachowek).

Dz.U. [...], nr 43, poz. 296, z późn. zm.; Dz.U. [...], nr 16, poz. 93, z późn. zm. (stan prawny na 5 marca 2019 r.).

**Na podstawie podanych informacji oraz przytoczonych przepisów prawnych uzupełnij fragment pozwu osoby pominiętej w testamencie – wpisz właściwe nazwy (A., B. i C.), imiona i nazwiska (D. i E.) oraz wartość przedmiotu sporu (F.).**

- A. Nazwa sądu – .....
- B. Nazwa miasta – .....
- C. Nazwa wydziału – .....
- D. Imię i nazwisko powoda – .....
- E. Imię i nazwisko pozwanego – .....
- F. Wartość przedmiotu sporu w złotych – .....

#### **Zadanie 24. (0–2)**

Logo



Fragment aktu prawnego obowiązującego w Rzeczypospolitej Polskiej

Art. 4.1. Obowiązane do udostępniania informacji [...] są władze publiczne oraz inne podmioty wykonujące zadania publiczne, w szczególności:

- 1) organy władzy publicznej,
- 2) organy samorządów gospodarczych i zawodowych [...].

Dz.U. 2001, nr 112, poz. 1198, z późn. zm. (stan prawny na 5 marca 2019 r.).

#### **24.1. Zaznacz poprawne dokończenie zdania.**

Ustawa, której fragment przytoczono, precyzuje przepis *Konstytucji Rzeczypospolitej Polskiej*:

- A.** Władze publiczne nie mogą pozyskiwać, gromadzić i udostępniać innych informacji o obywatelach niż niezbędne w demokratycznym państwie prawnym.
- B.** Obywatel ma prawo do uzyskiwania informacji o działalności organów władzy publicznej oraz osób pełniących funkcje publiczne.
- C.** Rzeczpospolita Polska zapewnia wolność prasy i innych środków społecznego przekazu.
- D.** Zapewnia się wolność i ochronę tajemnicy komunikowania się.

#### **24.2. Podaj pełną nazwę odpowiadającą skrótowcowi zapisanemu w logo.**

.....

Wypełnia egzaminator	Nr zadania	23.	24.1	24.2.
	Maks. liczba punktów	3	1	1
	Uzyskana liczba punktów			

### Zadanie 25. (0–1)

Fragmety dokumentu międzynarodowego dotyczącego praw i wolności człowieka

[U]znając, że zgodnie z Powszechną Deklaracją Praw Człowieka ideał wolnej istoty ludzkiej [...] może być osiągnięty tylko wówczas, kiedy zostaną stworzone warunki pozwalające każdemu na korzystanie z praw [...], [Państwa Strony] zgodziły się na następujące artykuły: [...]

Art. 6.1. Każda istota ludzka ma przyrodzone prawo do życia. [...]

Art. 19.2. Każdy człowiek ma prawo do swobodnego wyrażania opinii [...].

Art. 21. Uznaje się prawo do [...] [pokojuowego] zgromadzenia się. [...]

Art. 28.1. Powołuje się Komitet Praw Człowieka [...].

Dz.U. [...], nr 38, poz. 167.

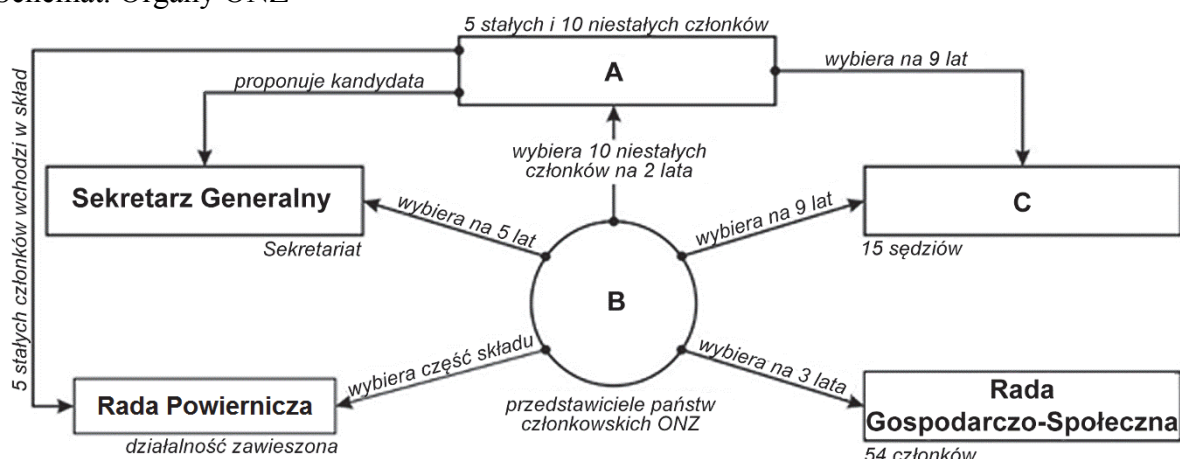
### Zaznacz poprawne dokończenie zdania.

Dokument, w którym zamieszczono przytoczone przepisy prawne, to

- A. Karta Narodów Zjednoczonych.
- B. Powszechna Deklaracja Praw Człowieka.
- C. Międzynarodowy pakt praw obywatelskich i politycznych.
- D. Międzynarodowy pakt praw gospodarczych, społecznych i kulturalnych.

### Zadanie 26. (0–2)

Schemat. Organy ONZ



Na podstawie: unic.un.org.pl

Podaj nazwy organów oznaczonych na schemacie literami (A, B i C).

- A. ....
- B. ....
- C. ....

### Zadanie 27. (0–3)

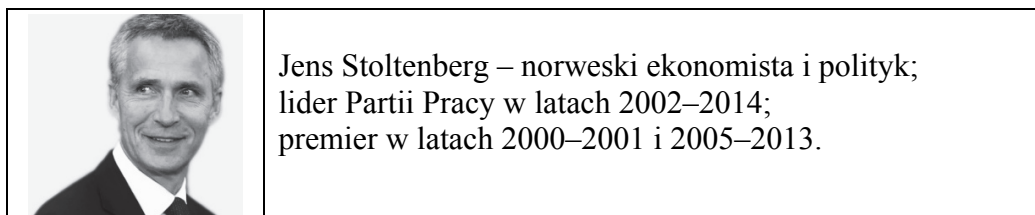
Fragment umowy międzynarodowej

Art. 5. Strony zgadzają się, że zbrojna napaść na jedną lub więcej z nich w Europie lub Ameryce Północnej będzie uznana za napaść przeciwko nim wszystkim[,] i dlatego zgadzają się, że jeżeli taka zbrojna napaść nastąpi, to każda z nich, w ramach wykonywania prawa do indywidualnej lub zbiorowej samoobrony, uznanego na mocy

artykułu 51 Karty Narodów Zjednoczonych, udzieli pomocy Stronie lub Stronom napadniętym, podejmując niezwłocznie, samodzielnie jak i w porozumieniu z innymi Stronami, działania, jakie uzna za konieczne, łącznie z użyciem siły zbrojnej [...].

Dz.U. [...], nr 87, poz. 970.

## O polityku



## Fragment mapy politycznej Europy



Na podstawie: www.worldatlas.com

### 27.1. Uzupełnij tekst – wpisz pełną polską nazwę organizacji międzynarodowej (A.), rok (B.) i nazwę funkcji (C.).

Przytoczony przepis prawny pochodzi z aktu prawnego, na mocy którego funkcjonuje (A.) ..... Organizacja ta powstała w (B.) ..... roku. Polityk przedstawiony w materiale źródłowym pełni od 2014 roku funkcję (C.) ..... tej organizacji.

### 27.2. Oceń, czy poniższe informacje są prawdziwe. Zaznacz P, jeśli informacja jest prawdziwa, albo F – jeśli jest fałszywa.

1.	Państwo ubiegające się o członkostwo w organizacji, której dotyczy pierwszy materiał źródłowy, oznaczono na mapie numerem 4.	P	F
2.	W 1999 roku do organizacji, której dotyczy pierwszy materiał źródłowy, przystąpiły Polska oraz państwa oznaczone na mapie numerami 2 i 3.	P	F
3.	Państwo niebędące członkiem organizacji, której dotyczy pierwszy materiał źródłowy, oznaczono na mapie numerem 1.	P	F

Wypełnia egzaminator	Nr zadania	25.	26.	27.1.	27.2.
	Maks. liczba punktów	1	2	2	1
	Uzyskana liczba punktów				

## Zadanie 28. (0–1)

Fotografia. Obrady jednej z instytucji Unii Europejskiej



www.[...].eu

O jednej z instytucji Unii Europejskiej

[...] [J]est pojedynczym podmiotem prawnym, ale zbiera się w 10 różnych składach – zależnie od tematu, który ma omawiać. [...] W posiedzeniach [...] uczestniczą przedstawiciele każdego z państw członkowskich [...]. Mają oni prawo podejmować zobowiązania w imieniu swojego rządu i brać udział w głosowaniu. Na posiedzenia [...] są też zapraszani komisarze odpowiedzialni za omawiane dziedziny. Zapraszani są także przedstawiciele Europejskiego Banku Centralnego, jeżeli to oni wszczęli procedurę ustawodawczą.

www.[...].europa.eu

**Rozstrzygnij, czy materiały źródłowe dotyczą tej samej instytucji Unii Europejskiej. Swój wybór uzasadnij, odnosząc się do tych materiałów.**

Rozstrzygnięcie – .....

Uzasadnienie – .....

.....

.....

.....

.....

.....

## Zadanie 29. (0–2)

O polityce zagranicznej Chińskiej Republiki Ludowej (ChRL) w XXI wieku

[Jak współczesne *soft power* (miękką siłą), tak i] stabilność dawnego systemu trybutarnego opierała się właśnie na dobrym wizerunku Chin i przekonaniu o ich kulturowym i cywilizacyjnym potencjale, czerpanie z którego, mimo zagrożeń związanych z asymetrią potencjałów, przynosi innym niebagatelne korzyści. [...] Asymetryczność relacji,

w przeciwieństwie do modelu historycznego, jest [współcześnie] nieformalna, można ją jednak zauważyć na przykładzie umów o współpracy lub pomocy gospodarczej, podpisywanych przez Chiny ze słabszymi państwami sąsiednimi. Choć utrzymana jest [...] równość i suwerenność obu stron tych porozumień, ich konkretne zapisy wyraźnie wskazują na przyjmowane role: państw sąsiednich jako korzystających z chińskiej przyjaźni i pomocy oraz Chin jako dobrego mocarstwa regionalnego, które szanuje inne państwa i dba o nie. [...] To Chiny udzielają pożyczek, inwestują czy jednostronnie zmniejszają cła w handlu dwustronnym, stając się jednym z najważniejszych zewnętrznych źródeł finansowania dla takich państw jak Nepal, Sri Lanka czy Mjanma. [...] Za trybut, czyli mający znaczenie przede wszystkim symboliczne jednostronnie narzucony warunek utrzymywania dwustronnych relacji z Pekinem, może natomiast być dziś uważany wymóg uznawania zasady jednych Chin [...].

*Region Azji i Pacyfiku w latach 1985–2015. Ciągłość i zmiana w regionalnym systemie międzynarodowym,*  
red. A. Jarczevska, J. Zajączkowski, Warszawa 2016, s. 86–88.

**29.1. Odnosząc się do faktografii, wyjaśnij kwestię – podkreślonego w tekście – warunku utrzymywania stosunków dyplomatycznych z ChRL.**

.....

.....

.....

.....

.....

**29.2. Podaj dwa argumenty świadczące o tym, że wskazane w tekście umowy przynoszą korzyści także ChRL.**

- .....
- .....
- .....
- .....
- .....
- .....
- .....
- .....
- .....
- .....

<b>Wypełnia egzaminator</b>	<b>Nr zadania</b>	<b>28.</b>	<b>29.1.</b>	<b>29.2.</b>
	<b>Maks. liczba punktów</b>	<b>1</b>	<b>1</b>	<b>1</b>
	<b>Uzyskana liczba punktów</b>			

### Zadanie 30. (0–2)

O działaniach polskich oddziałów w państwach Azji

**Opis A.** Z nowym charakterem działań przyszło się zmierzyć [...] w lutym 2004 roku. [...] Największym wyzwaniem [...] było powstanie Armii Mahdiego Muktady as-Sadra. Polskie plutony [...] przez kilka dni były oblegane przez sadrystów oraz bojowników Al-Kaidy i ceczeńskich.

**Opis B.** Polacy stacjonowali m.in. w Kabulu, Ghazni, Kandaharze, [...] przejęli odpowiedzialność za prowincję Ghazni, w której pozostali do końca 2013 roku. Nasi żołnierze walczyli z talibami, odbudowywali prowincję Ghazni, pomagali szkołom, szpitalom i sierocińcom.

„Obronność. Zeszyty Naukowe” 2014, nr 1(9); www.polskieradio.pl

Fragment mapy politycznej Azji



www.worldatlas.com

Uzupełnij tabelę – do każdego opisu działań dopisz nazwę państwa, w którym były one prowadzone, oraz numer, którym oznaczono to państwo na mapie.

	Nazwa państwa	Numer na mapie
Opis A.		
Opis B.		

### Zadanie 31. (0–12)

Wybierz jeden spośród podanych tematów i napisz wypracowanie.

#### Temat 1.

Aktywność społeczności lokalnej to nie tylko udział w wyborach organów samorządu gminnego – scharakteryzuj inne formy wpływu tej społeczności na funkcjonowanie organów gminy oraz na decyzje dotyczące gminnej wspólnoty samorządowej w Rzeczypospolitej Polskiej.

**Temat 2.**

**Porównując tryb wyboru i kompetencje Sejmu RP i Senatu RP, uzasadnij, że obowiązujące w Rzeczypospolitej Polskiej rozwiązania prawne są zgodne z przedstawioną analizą.**

O bikameralizmie w Rzeczypospolitej Polskiej

Pozycję ustrojową każdego organu państwa zawsze w poważnym stopniu określa zakres jego uprawnień. W przypadku Senatu RP nie są one zbyt wielkie, ale z pewnością są specyficzne, czy swoiste w porównaniu z uprawnieniami Sejmu RP. Ich analiza dowodzi, że [...] [obowiązująca] konstytucja nie optuje [...] za modelem parlamentu, którego izby są funkcjonalnie równoprawne. Mamy więc do czynienia z modelem dwuizbowości zróżnicowanej, w każdym razie nierównorzędnej.

*Prawo konstytucyjne, red. Z. Witkowski, Toruń 2002, s. 271.*

**Temat 3.**

**Scharakteryzuj system ochrony praw człowieka i obywatela Rady Europy oraz Unii Europejskiej – dokumenty dotyczące tych praw, instytucje stojące na straży ich przestrzegania oraz możliwości ich dochodzenia przez obywateli państw członkowskich tych organizacji.**

Fragmety formularza skargi do jednego z trybunałów międzynarodowych

<b>Przedmiot skargi</b>	
Wszystkie informacje dotyczące stanu faktycznego, podnoszonych zarzutów oraz wyczerpania krajowych środków odwoławczych, a także zachowania terminu 6 miesięcy (art. 35 ust. 1 Konwencji) powinny zostać zawarte w tej części formularza (części E, F i G). Te części formularza muszą zostać wypełnione, nie wystarczy również odwołać się do informacji zawartych na załączonych kartkach. Zobacz: artykuł 47 § 2 Regulaminu Trybunału, dokument „Wszczęcie Procedury” na stronie internetowej Trybunału (w języku angielskim i francuskim), jak również dokument „Jak wypełnić formularz skargi”.	
<b>E. Opis stanu faktycznego</b>	
56.	
<b>F. Opis zarzucanych naruszeń Konwencji i/lub Protokołów wraz z uzasadnieniem</b>	
59. Powoływany artykuł	Uzasadnienie
<b>G. Zgodność z kryteriami dopuszczalności wynikającymi z artykułu 35 § 1 Konwencji</b>	
W odniesieniu do każdego z zarzutów proszę wskazać, że wykorzystano skuteczne środki odwoławcze w kraju oraz wskazać datę, w której ostateczne orzeczenie (decyzja) krajowe zostało ogłoszone i doręczone, w celu ustalenia, że zachowany został termin sześciu miesięcy.	
61. Zarzut(y)	Wykorzystane środki odwoławcze wraz z datą ostatecznych orzeczeń

www.echr.coe.int

<b>Wypełnia egzaminator</b>	<b>Nr zadania</b>	<b>30.</b>
	<b>Maks. liczba punktów</b>	<b>2</b>
	<b>Uzyskana liczba punktów</b>	





Blank page with horizontal dotted lines for writing.



Blank page with horizontal dotted lines for writing.

# **BRUDNOPIS (*nie podlega ocenie*)**