

UZUPEŁNIA ZDAJĄCY

KOD			PESEL											
<input type="text"/>	<input type="text"/>	<input type="text"/>	<input type="text"/>	<input type="text"/>	<input type="text"/>	<input type="text"/>	<input type="text"/>	<input type="text"/>	<input type="text"/>	<input type="text"/>	<input type="text"/>	<input type="text"/>	<input type="text"/>	<input type="text"/>

miejsce
na naklejkę**EGZAMIN MATURALNY Z FIZYKI**
POZIOM ROZSZERZONYDATA: **16 maja 2016 r.**GODZINA ROZPOCZĘCIA: **9:00**CZAS PRACY: **180 minut**LICZBA PUNKTÓW DO UZYSKANIA: **60****Instrukcja dla zdającego**

1. Sprawdź, czy arkusz egzaminacyjny zawiera 18 stron (zadania 1–16). Ewentualny brak zgłoś przewodniczącemu zespołu nadzorującego egzamin.
2. Rozwiązania i odpowiedzi zapisz w miejscu na to przeznaczonym przy każdym zadaniu.
3. W rozwiązaniach zadań rachunkowych przedstaw tok rozumowania prowadzący do ostatecznego wyniku oraz pamiętaj o jednostkach.
4. Pisz czytelnie. Używaj długopisu/pióra tylko z czarnym tuszem/atramentem.
5. Nie używaj korektora, a błędne zapisy wyraźnie przekreśl.
6. Pamiętaj, że zapisy w brudnopisie nie będą oceniane.
7. Możesz korzystać z *Wybranych wzorów i stałych fizykochemicznych na egzamin maturalny z biologii, chemii i fizyki*, linijki oraz kalkulatora prostego.
8. Na tej stronie oraz na karcie odpowiedzi wpisz swój numer PESEL i przyklej naklejkę z kodem.
9. Nie wpisuj żadnych znaków w części przeznaczonej dla egzaminatora.

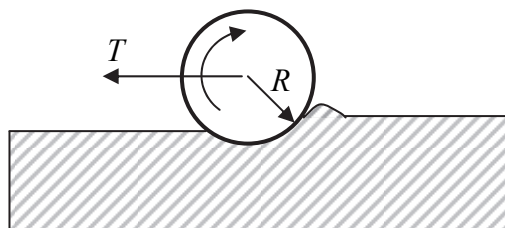


MFA-R1_1P-162

Zadanie 5.

Siła tarcia występuje nie tylko w przypadku poślizgu (tarcie poślizgowe) lub styku powierzchni dwóch ciał wzajemnie nieruchomych i próby ich przesunięcia (tarcie statyczne). Podczas toczenia się walca po poziomej powierzchni występuje tarcie toczne. Opór toczenia jest spowodowany innymi zjawiskami niż w tarciu poślizgowym lub statycznym. Jego przyczyną jest zjawisko odkształcenia podłoża i – często – również toczącego się ciała. Styk między nimi nie zachodzi w jednym punkcie, lecz na pewnym obszarze.

Działającą na walec siłę tarcia tocznego T (patrz rysunek) obliczamy ze wzoru $T = \frac{f}{R} F_N$, gdzie: F_N – siła nacisku walca na podłoże, R – promień walca, f – współczynnik tarcia tocznego, zależny od rodzaju powierzchni.



Zadanie 5.1. (0–2)

Oceń prawdziwość poniższych zdań, korzystając z podanych informacji. Zaznacz P, jeśli zdanie jest prawdziwe, albo F – jeśli jest fałszywe.

1.	Współczynnik tarcia tocznego wyrażamy w metrach.	P	F
2.	Gdy powierzchnia, po której toczy się nieodkształcalny (sztywny) walec, jest całkowicie nieodkształcalna, współczynnik tarcia tocznego f jest równy zero.	P	F
3.	Na dwa stalowe walce o jednakowych masach i różnych promieniach, toczące się po tej samej, poziomej powierzchni, działa taka sama siła tarcia tocznego.	P	F
4.	Jeżeli dwa wózki mają tę samą masę, a osie ich kół obracają się bez tarcia, to po tym samym równym poziomym podłożu łatwiej jest ciągnąć wózek o mniejszych kołach.	P	F

Zadanie 5.2. (0–1)

Dwa stalowe walce o jednakowych masach i długościach oraz różnych promieniach toczą się po tej samej poziomej powierzchni. Możesz przyjąć, że jednakowa masa wynika stąd, że walec o większym promieniu jest wydrążony.

Zaznacz właściwe dokończenie zdania wybrane spośród A–C oraz jego poprawne uzasadnienie wybrane spośród 1.–3.

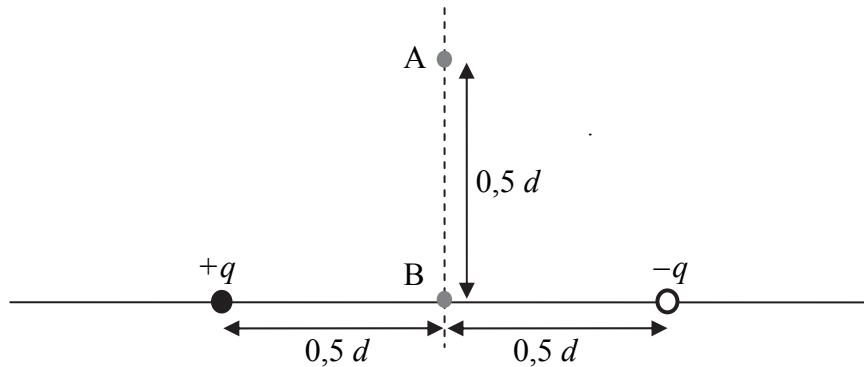
Dla walca o większym promieniu głębokość odkształcenia podłoża jest

A.	większa,	ponieważ	1.	ciśnienie wywierane przez walec na podłoże jest mniejsze.
B.	taka sama,		2.	masa toczącego się walca i jego ciężar się nie zmieniają.
C.	mniejsza,		3.	ciśnienie wywierane przez walec na podłoże jest większe.

Zadanie 10.

Dipol elektryczny to układ dwóch różnoimiennych ładunków o tej samej wartości bezwzględnej q , umieszczonych w odległości d od siebie. Momentem dipolowym \vec{p} nazywamy wektor o wartości $p = q \cdot d$, zwrócony od ładunku ujemnego do dodatniego.

Natężenie pola elektrostatycznego układu ładunków można wyznaczyć jako wektorową sumę natężeń pól wytwarzanych przez każdy ładunek z osobna.


Zadanie 10.1. (0–2)

Stosując metodę dodawania wektorów, skonstruuj na rysunku powyżej wektor natężenia pola \vec{E} w punkcie A leżącym na symetralnej dipola w odległości $0,5 d$ od jego osi.

Zadanie 10.2. (0–2)


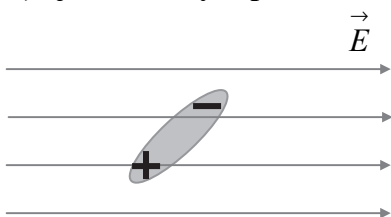
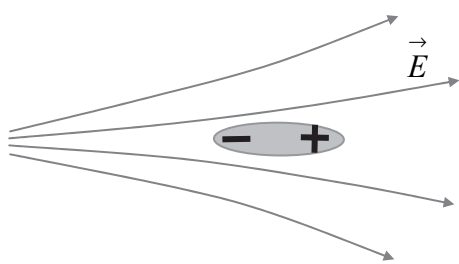
Parametry przedstawione na rysunku do zadania 10.1. mają wartości $d = 10^{-2} \text{ m}$, $q = 10^{-12} \text{ C}$. Ładunki znajdują się w próżni.

Oblicz wartość natężenia pola w punkcie B.




Zadanie 10.3. (0–2)

Opisz, jak zachowa się swobodny dipol umieszczony w:

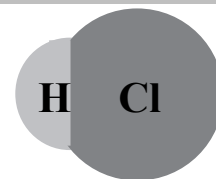

a) **jednorodnym polu elektrostatycznym, ustawiony ukośnie**b) **niejednorodnym polu elektrostatycznym, ustawiony równoległe do pola.**

silniejsze pole

słabsze pole

**Zadanie 10.4. (0–3)**

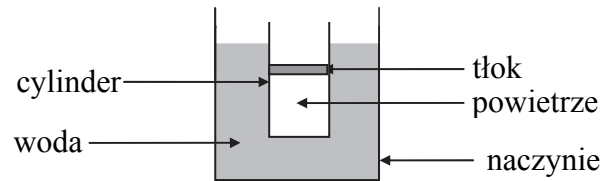
Przykładem dipola jest cząsteczka chlorowodoru (HCl), w której wiązanie chemiczne polega na utworzeniu wiążącej pary elektronowej przez atomy wodoru i chloru. Ujemny ładunek elektronowy jest przesunięty względem dodatniego ładunku jądrowego, co powoduje, że od strony atomu chloru cząsteczka jest naładowana ujemnie, a od strony atomu wodoru – dodatnio. Odległość pomiędzy jądrami H i Cl wynosi $1,27 \cdot 10^{-10}$ m.

**Oszacuj moment dipolowy cząsteczki HCl.****Wynik podaj w debajach (D). $1 \text{ D} = 3,3 \cdot 10^{-30} \text{ C} \cdot \text{m}$.**

Wypełnia egzaminator	Nr zadania	10.1.	10.2.	10.3.	10.4.
	Maks. liczba pkt	2	2	2	3
	Uzyskana liczba pkt				


Zadanie 11. (0–3)

Używając małego metalowego cylindra zamkniętego tłokiem, który mógł poruszać się praktycznie bez tarcia, wykonano doświadczenie w układzie przedstawionym na rysunku.

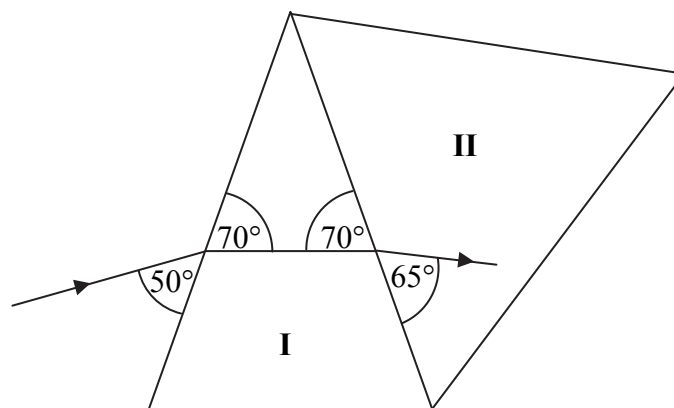


Gdy wodę w naczyniu podgrzano od temperatury $22\text{ }^{\circ}\text{C}$ do $68\text{ }^{\circ}\text{C}$, tłok przesunął się w górę. Ustalono, że objętość powietrza zamkniętego tłokiem zwiększyła się od 125 cm^3 do 144 cm^3 .

Wyznacz, korzystając tylko z podanych informacji oraz z własności przemian gazowych, temperaturę zera bezwzględnego w skali Celsjusza.

**Zadanie 12. (0–4)**

Na dwa sklejone ze sobą pryzmaty **I** i **II** skierowano promień światła laserowego. Na rysunku zaznaczono bieg wiązki oraz kąty, jakie tworzy promień z powierzchniami pryzmatów. Przyjmij, że współczynnik załamania powietrza otaczającego układ pryzmatów jest równy 1.



Zadanie 13. (0–1)

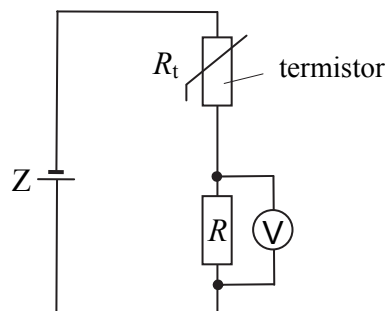
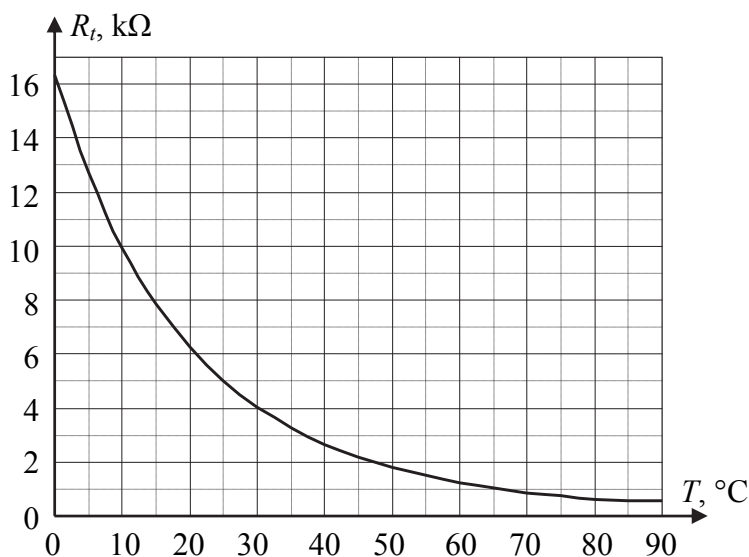
Na rysunku poniżej przedstawiono schematycznie kuliste źródło światła (Z), piłkę tenisową (T) i ścianę (S). Po włączeniu źródła na ścianie powstały obszary cienia i półcienia.



Wyznacz konstrukcyjnie położenie tych obszarów na ścianie. Opisz je literami C (cień) i P (półcień). Przy rysowaniu promieni skorzystaj z linijki.

Zadanie 14.

Termistor jest opornikiem półprzewodnikowym, którego opór zależy od temperatury. Poniżej po lewej stronie przedstawiono wykres zależności oporu pewnego termistora od temperatury. Termistor został włączony w obwód elektryczny, którego schemat przedstawiono po prawej stronie. Napięcie źródła Z ma wartość 12 V, a opór R wynosi 500 Ω . Opór woltomierza jest bardzo duży.



Na podstawie: <http://www.ovenind.com>

Zadanie 14.1. (0–2)

W poniższym tekście podkreśl słowa w taki sposób, aby powstał poprawny opis zależności między zmianami temperatury termistora, oporu i natężenia prądu w obwodzie.

Wzrost temperatury termistora powoduje (zwiększenie się / zmniejszenie się) wartości jego oporu, a tym samym (zwiększenie się / zmniejszenie się) wartości całkowitego oporu obwodu.

Wzrost oporu termistora spowoduje (zwiększenie się / zmniejszenie się) wartości natężenia prądu płynącego w obwodzie, a w konsekwencji wartość napięcia wskazywanego przez woltomierz (się zwiększy / się zmniejszy).

BRUDNOPIS (*nie podlega ocenie*)

